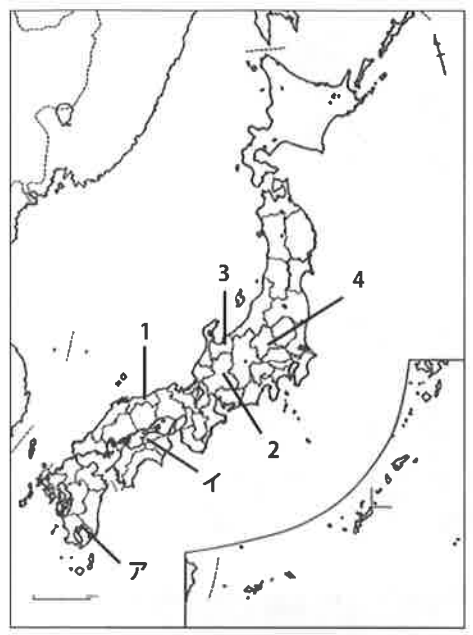


社会

制限時間45分 60点満点

1

次の略地図を見て、設問に適語や番号で答えなさい。



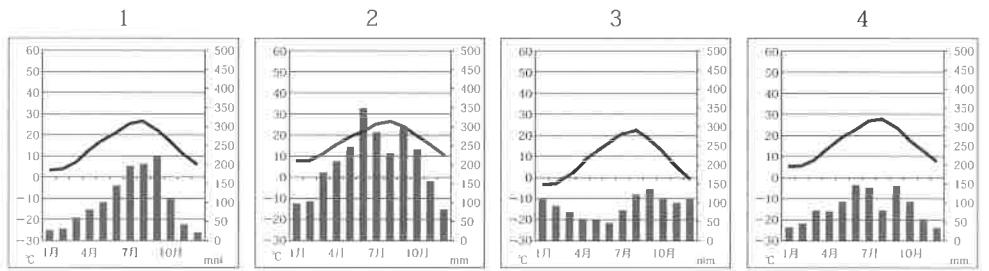
問1 次の文章は、地図中の1～4のどの都道府県について述べたものですか。

2008年に新たな自動車道が全線開通し、沿線の山あいにある五箇山は大きな影響を受けました。五箇山には、昔ながらの合掌づくりの家々が残された貴重な集落として1995年に世界遺産に登録されました。2015年春には新幹線も開通し、新しい人の動きが期待されています。

問2 地図中のアの都道府県について述べた文章のうち、誤っているものはどれですか。

- 1 頻繁に噴火を起こす火山があり、天気予報では火山上空の風向きが伝えられます。
- 2 農業産出額は国内第3位で、キュウリやトマトなどの促成栽培が盛んです。
- 3 1990年代以降、IC生産は停滞気味になっていますが、工場の分布がみられます。
- 4 温泉資源も豊富であり、観光産業が盛んです。

問3 次の4つの気温図のうち、地図中のイのものはどれですか。
(気象庁データ1981～2010年平均値より)



問4 火山の噴火や津波、洪水など、さまざまな自然災害による被害の可能性や、災害発生時の避難場所などを示した地図のことを何といいますか。

問5 次の生徒と先生の会話の中の (X) ・ (Y) にあてはまる数字の組み合わせとして正しいものはどれですか。

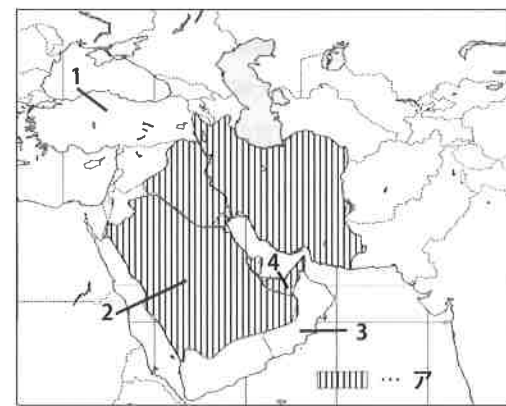
生徒：新年を迎え初詣にでかけました。帰ってきて昼のニュースを見てみると、ニューヨークでちょうど午前0時を迎えて花火が打ち上げられる映像が流れていました。日本とニューヨークでは時差がかなりあるのですね。

先生：ニューヨークは、大まかにいうと西経75度くらいに位置しています。経度が (X) 度違うと1時間の差が生じるので、日本とは大きな時差があると考えられます。逆の東経75度くらいにはインドのデリーがありますが、ここの時差は (Y) 時間ですね。同時刻であっても、デリーではニューヨークと違った様子がみられそうですね。

- | | | | | | | | | | |
|---|---|----|---|----|---|---|----|---|------|
| 1 | X | 15 | Y | 14 | 2 | X | 20 | Y | 10.5 |
| 3 | X | 15 | Y | 4 | 4 | X | 20 | Y | 3 |

2

次の略地図を見て、設問に適語や番号で答えなさい。



問1 この地図で示された地域で最も信仰されている宗教について述べた次の文のうち、誤っているものはどれですか。

- 1 聖地はメッカであり、アフリカ北部や東南アジアにも信徒がみられます。
- 2 世界で3番目に信徒が多い宗教です。
- 3 豚肉を食べないことやアルコールを摂取しないことなど、食事に関するルールがあります。
- 4 女性は肌を見せてはならず、買い物や仕事なども男性がするのが基本です。

問2 地図中のアで塗られた国々が、産油国として自らの利益を守って経済発展を目指すために結成した組織は何ですか。アルファベットで答えなさい。

問3 次の文章は、地図中の1～4のどの国について述べたものですか。

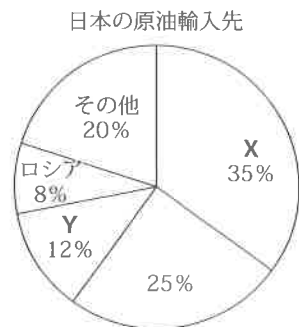
かつてのドバイは砂漠しかありませんでしたが、現在では世界一高いビルが建つなど、町なみが大きく変わっています。一年中暑いドバイですが、ショッピングセンターやホテルの中では冷房がきいています。近年では、砂漠の中のリゾート地として有名で、外国人観光客が増えています。

問4 この地図で示された地域で、採掘された原油を輸送するときに多く使われている、長距離輸送に適した管状の輸送施設を何といいますか。

問5 右の円グラフは、日本の原油輸入先を示したものです。グラフ中のXとYにあてはまる国名の組み合わせとして正しいものはどれですか。

(財務省貿易統計2014年より)

- 1 X サウジアラビア Y カタール
- 2 X サウジアラビア Y クウェート
- 3 X バーレーン Y カタール
- 4 X バーレーン Y クウェート



3 次の年表を見て、設問に適語や番号で答えなさい。

時代	できごと	時代	できごと
弥生	<u>ア</u> 邪馬台国が魏に使いを送る	室町	<u>カ</u> 室町文化
古墳	大和政権がうまれる	安土桃山	<u>キ</u> 太閤検地が行われる
飛鳥	<u>イ</u> 遣隋使が派遣される	江戸	<u>ク</u> 寛政の改革が行われる
奈良	<u>ウ</u> 班田収授法がはじまる	明治	<u>ケ</u> 下関条約が締結される
平安	<u>エ</u> 摂関政治が行われる	大正	第一次世界大戦に参戦
鎌倉	<u>オ</u> 承久の乱がおこる	昭和	<u>コ</u> ポツダム宣言の受諾

問1 下線アについて、この時代の説明で誤っているものはどれですか。

- 1 このころ中国は魏・呉・蜀の三国が争っていました。
- 2 銅剣・銅矛・銅鐸などの青銅器が祭りの道具として用いられました。
- 3 魔よけとして土偶がさかんにつくられました。
- 4 代表的な遺跡として佐賀県の吉野ヶ里遺跡があります。

問2 下線イについて、この時代の説明で誤っているものはどれですか。

- 1 聖徳太子（厩戸皇子）は蘇我氏をたおし、天皇中心の政治を行いました。
- 2 家柄にとらわれず、才能や功績のある人物を役人に取り立てる仕組みがつけられました。
- 3 仏教や儒教の考え方を取り入れた役人の心構えが示されました。
- 4 隋から政治のしくみや進んだ文化を取り入れ、隋と対等な国交をめざしました。

問3 下線ウについて、この説明で誤っているものはどれですか。

- 1 戸籍に登録された6歳以上の男女がその対象となりました。
- 2 この当時は公地公民の制がとられていました。
- 3 死者の口分田は国に返しました。
- 4 性別や身分に関係なく均等に口分田が与えられました。

問4 下線工について、次の建物を建立したのは誰ですか。



問5 下線オについて、この乱に敗れ、隠岐（島根）に流された人物は誰ですか。

問6 下線カについて、この時期ではないものはどれですか。



問7 下線キについて、誤っているものはどれですか。

- 1 収穫量を石高で表しました。
- 2 ますの大きさを「京ます」に統一しました。
- 3 全国の田畑の面積を調べました。
- 4 検地帳に登録されない者にも、土地の所有権を認めました。

問8 下線クについて、この改革と関係の深いものはどれですか。

- 1 公事方御定書という裁判の基準となる法律を整備しました。
- 2 上米の制を定め、幕府に米を献上させました。
- 3 物価を下げるために株仲間の解散を命じました。
- 4 旗本・御家人の生活難を救うために、町人からの借金を帳消しにしました。

問9 下線ケについて、次の文章の（ X ）・（ Y ）にあてはまる語句の組み合わせとして正しいものはどれですか。

この条約には、（ X ）半島を割譲することなどがありましたが、これに異を唱えた（ Y ）はドイツ・フランスと結び、（ X ）半島を清に返還することを強く求めました。

- 1 X 遼東 Y ロシア 2 X 遼東 Y イギリス
3 X 山東 Y ロシア 4 X 山東 Y イギリス

問10 下線コについて、この時期の説明として誤っているものはどれですか。

- 1 原子爆弾が、1945年8月6日に広島、9日には長崎に投下されました。
2 ソ連がヤルタ会談での協定に基づき、1945年8月8日に参戦してきました。
3 この内容は、天皇制の維持など日本の要求が反映されたものでした。
4 天皇のラジオ放送（玉音放送）で、国民に敗戦が知らされました。

4

次の文章を読んで、設問に適語や番号で答えなさい。

2016年5月、三重県で伊勢志摩サミットが開催されました。サミット（主要国首脳会議）とは、1年に1度、アG7の大統領や首相、EUの代表が集まり、世界を取り巻いている問題について話し合う会議のことです。

今回のサミットでは、G7として世界経済に対応する努力を強化することが決定されました。具体的には、中央銀行が行う景気の安定化を図る（ ）政策、政府が行う財政政策、規制緩和などの政策について、各国の状況に合わせた協力を進めていくこと、安定したイ為替相場が望ましいことから競争的な切り下げを回避することなどが確認されました。

貿易に関する分野では、ウTPPが世界貿易の自由化に向けた重要な取り組みだと評価し、早期の発効を後押しすることで一致しました。政治・外交に関する分野では、大規模なエ難民流入に直面するヨーロッパへの支援やテロに対する国際的対応についても話し合われました。

問1 文章中の（ ）にあてはまる語句を書きなさい。

問2 下線アに関連した文章について、誤っているものはどれですか。

- 1 G7とは、日本、アメリカ、イギリス、フランス、ドイツ、イタリア、カナダの7つの先進国のことです。
2 アメリカは大統領制を採用しており、国民は選挙で大統領選挙人を通じて大統領を選出しています。
3 日本やイギリスは議院内閣制を採用しており、国会（議会）で選出された首相により内閣が組織され、内閣は国会の信任に基いて成立し、国会に対して連帯して責任を負います。
4 EUでは、政治統合への動きが、経済や外交、安全保障の分野にまで拡大し、共通の政策を強化する努力が続いています。

問3 下線イについて述べた文章として、正しいものはどれですか。

- 1 為替相場は、政府間での外国通貨の売買によって決定され、世界経済の状況を反映して変化する変動相場制をとっています。
2 円高は、1ドル=100円が1ドル=110円になるときのように、外国通貨に対して円の価値が高くなることをいいます。
3 円安になると、自動車などの輸出品の現地価格が下がるので、輸出産業が有利になります。
4 2008年の世界金融危機以降、急激な円安が進み、海外の土地や株式が安く買えるようになりました。

問4 下線ウについて述べた文章として、誤っているものはどれですか。

- 1 TPPとは「アジア太平洋経済協力会議」の英略称で、シンガポール、ブルネイ、チリ、ニュージーランドの4か国で発足しました。
2 TPPの加盟国を増やす拡大交渉会合にアジア・太平洋地域の国々が参加を表明し、日本も2013年から参加しています。
3 TPPは、加盟国間のヒト・モノ・サービス・カネの移動の自由化を推進するために、広範囲の分野での関税の撤廃や、外国人労働者の受け入れに関する規制緩和などが目指されています。
4 TPPに参加することで、日本製品の輸出が拡大する一方、関税廃止によって日本の農業が弱体化し、食糧自給率が低下するおそれがあると懸念されています。

問5 下線エについて、各国に難民の受け入れを求めたり、難民の生活を改善したり、難民を保護する活動をしている国連設置機関を答えなさい。

5

次の文章を読んで、設問に適語や番号で答えなさい。

国際社会で「国民投票」の力が注目されています。2016年6月にはイギリスでEUからの離脱が選ばれ、スイスでは最低所得保障制度導入への反対、10月にはコロンビアで内戦終結への和平合意に反対、と国民投票によって国家の方向性を決める重大な決定がなされてきました。

国民投票とは、国民が国家の重要な事項に関して直接意思を表明する制度のことです。日本では過去に行われたことがないため馴染みは薄いものの、世界ではしばしば行われており、2000年代に世界で行われた国民投票の回数は298回、その約半分がヨーロッパで実施されています。

日本では、ア日本国憲法の改正について、イ日本国憲法第96条で国民が直接参加することを定めています。2007年には、国民投票法によって国民投票の具体的な手続きも制定され、2010年に施行されました。投票年齢は満（ ）歳以上と規定され、以後、様々な法律の見直しが行われました。

ところで、イギリスではEU離脱の結果を受けて、投票のやり直しの署名が集められていま

したが、国民投票が抱える課題には、次のような点があると考えられています。第一に、国民投票は賛成または反対の二択で結論を出すため、「一部には賛成だけ一部には反対」という具体的な意思表示はできない点です。第二に、多数派の意見は絶対に正しいのか、決して間違えることはないのかという点です。➡ フランスのルソーは「一般意思（みんなのための意思）と違うものを、一般意思だと勘違いしないようにしよう」と述べています。

憲法改正が現実味を帯び始めた今日、特別な意味をもつ「国民投票」について、私たちは物事を決める重大さを認識して、政治と向き合って結論を出さないとはいけません。

問1 文章中の（ ）にあてはまる数字を書きなさい。

問2 下線アについて述べた文章のうち、正しいものはどれですか。

- 1 日本国憲法は、GHQの指示により、大日本帝国憲法を改正する手続きによって成立し、1946年11月3日から施行されました。
- 2 日本国憲法は、国民主権、平和主義、権力分立の3つの基本原理から成り立っており、憲法は大きく分けて、「人権の保障」と「国の政治の仕組み」の2つの部分から構成されています。
- 3 日本国憲法では、平等権や自由権、社会権、参政権などを保障して、このような権利を国民の不断の努力によって、保持しなければならないとして規定しています。
- 4 日本国憲法では、国民が裁判官と共に重大な犯罪に関わる第一審の刑事裁判を行う裁判員制度を規定し、国民の視点や感覚を裁判に反映する工夫をしています。

問3 下線イについて、条文中の（ X ）・（ Y ）にあてはまる語句はどれですか、それぞれ選びなさい。

第96条

① この憲法の改正は、各議院の（ X ）の賛成で、国会が、これを発議し、国民に提案してその承認を経なければならない。この承認には、特別の国民投票又は国会の定める選挙の際行はれる投票において、その（ Y ）の賛成を必要とする。

- | | | |
|--------------|-----------|---------------|
| 1 総議員の3分の2以上 | 2 総議員の過半数 | 3 出席議員の3分の2以上 |
| 4 出席議員の過半数 | 5 3分の2以上 | 6 過半数 |

問4 下線ウの著書を書きなさい。

解答用紙 (2017-2) (社会)

1	問 1	問 2	問 3	問 4	問 5

2	問 1	問 2	問 3	問 4

問 5	小計

3	問 1	問 2	問 3	問 4

問 5	問 6	問 7	問 8	問 9

問 10	小計

4	問 1	問 2	問 3	問 4

問 5

問 1	問 2	問 3
		X Y

問 4

小計

受験番号

--	--	--	--	--	--	--	--

得点合計	
------	--