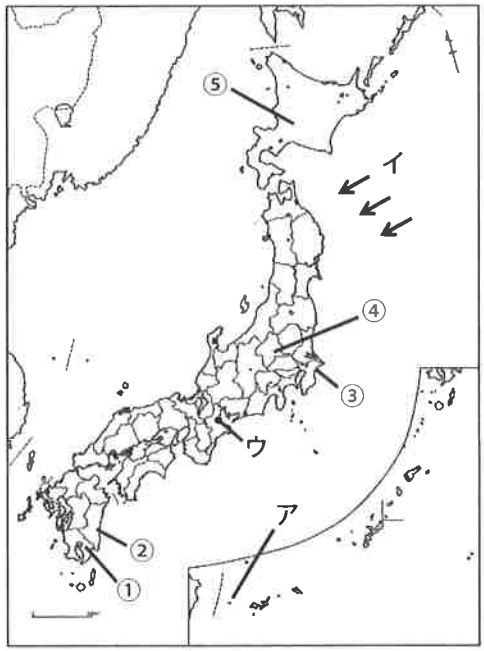


社会

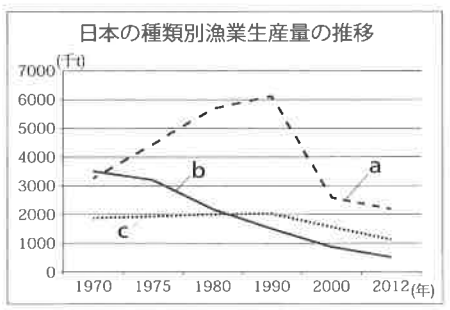
制限時間45分 60点満点

1

次の略地図を見て、設問に適語や番号で答えなさい。



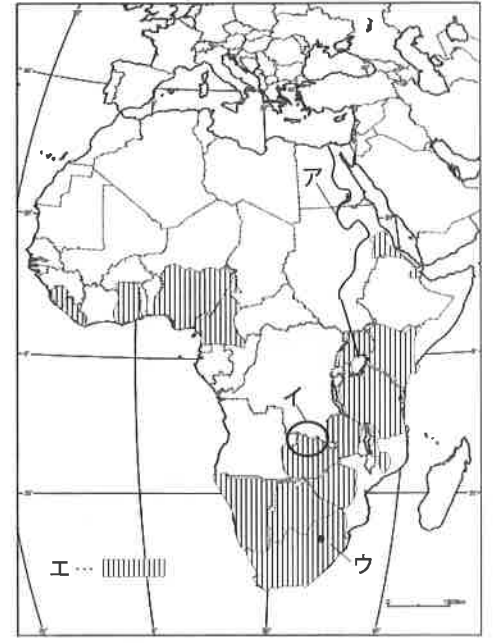
- 問1 図中のアは、日本の領土の西端となる島を示したものです。この島を何といますか。
- 問2 図中のイで示した矢印は、東北地方の太平洋側に吹く冷たい湿った北東風を表しています。この風を何といますか。
- 問3 図中の①～⑤は、ある家畜の飼養頭数(羽数)を上位から順番に示したものです。その家畜の種類として正しいものはどれですか。 ※農林水産統計速報2012年調査参考
1 乳牛 2 肉牛 3 豚 4 プロイラー(肉用にわとり)



- 問4 図中のウは、日本の四大公害病の1つが発生した場所を示しています。この公害病を何といますか。
- 問5 右のグラフは、日本の種類別漁業生産量の推移を示したものです。aの漁業形態は何ですか。

2

次の略地図を見て、設問に適語や番号で答えなさい。



- 問1 図中のアの川を何といますか。
- 問2 図中のイは銅が多く産出する地域を示しています。この地域を何といますか。
- 問3 図中のウは世界有数の金の産出地として発展した都市です。この都市の名前は何か。
1 ヨハネスバーグ
2 ナイロビ
3 ケープタウン
4 カイロ
- 問4 図中のエで塗られた国々に共通している公用語は何ですか。
- 問5 アフリカの農業について説明した次の文の()に適する語句の組み合わせはどれですか。

アフリカの農業は、植民地時代につくられた(X)による栽培が特徴であり、ギニア湾岸のコートジボワールなどでは(Y)の栽培が盛んに行われている。

- 1 X モノカルチャー Y コーヒー 2 X モノカルチャー Y カカオ
- 3 X プランテーション Y コーヒー 4 X プランテーション Y カカオ

3

次の年表を見て、設問に番号が指示された形式で答えなさい。

時代区分	できごと	時代区分	できごと
弥生	ア <u>倭奴国の王が後漢に使いを送る</u>	室町	ク <u>応仁の乱</u> がおこる
古墳	イ <u>前方後円墳</u> がえられるようになる	安土桃山	豊臣秀吉が全国を統一する
飛鳥	ウ <u>大化の改新</u> が行われる	江戸	鎖国が完成する
奈良	エ <u>平城京</u> に都が移される	明治	ケ <u>日清戦争</u> がおこる
平安	オ <u>国風文化</u>	大正	第一次世界大戦がおこる
鎌倉	カ <u>源頼朝が征夷大将軍に任命される</u>	昭和	コ <u>サンフランシスコ平和条約</u> を締結する
室町	キ <u>勘合貿易</u> が始まる		

問1 下線アについて、この時に後漢の皇帝から金印を授けられたが、何という文字が刻まれていましたか。漢字5文字で答えなさい。

問2 下線イについて、大阪堺市にある面積が世界最大級の古墳名を答えなさい。


問3 下線ウについて、この時にたおされた一族はどれですか。

- 1 物部氏 2 大伴氏 3 蘇我氏 4 平群氏

問4 下線エについて、この都で行われた政治としてあてはまるのはどれですか。

- 1 白河上皇による院政 2 平氏による政治
3 藤原氏による摂関政治 4 聖武天皇による政治

問5 下線オについて、平安期のものではないものはどれですか。



問6 下線カについて、将軍と御家人に関する次の文の（ ）に適する語句の組み合わせはどれですか。

将軍からの先祖伝来の領地の支配を認める（ X ）に対して、御家人は戦いが起こった時は、命がけて合戦に参加する（ Y ）の関係が結ばれていた。

- 1 X 御恩 Y 夫役 2 X 報徳 Y 奉公
3 X 御恩 Y 奉公 4 X 報徳 Y 夫役

問7 下線キについて、次の文の（ ）に適する語句の組み合わせはどれですか。

この貿易は、勘合という合い札の証明書を用いて、足利（ X ）が、中国の（ Y ）との間で始めたものである。

- 1 X 義満 Y 明 2 X 尊氏 Y 宋
3 X 義満 Y 宋 4 X 尊氏 Y 明

問8 下線クについて、この時の説明文として誤っているものはどれですか。

- 1 将軍尊氏の死後、あとつぎをめぐる争いがおこりました。
2 守護大名間の勢力争いがおこりました。
3 足軽の乱暴などにより、京都が焼け野原となりました。
4 幕府の権力は、おとろえることになりました。

問9 下線ケについて、この後、結ばれた講和条約はどれですか。

- 1 下関条約 2 ポーツマス条約 3 南京条約 4 日清修好条規

問10 下線コについて、この時期の説明として誤っているものを選びなさい。

- 1 同時にアメリカとの間で日米安全保障条約を結びました。
2 アメリカは日本を西側陣営の強力な一員にするために講和を急ぎました。
3 1956年に、日本は国際連盟に加盟し国際社会に復帰しました。
4 朝鮮戦争がはじまると、GHQの指令で警察予備隊がつくられ、1954年には自衛隊となりました。

4 次の文章を読んで、設問に適語や番号で答えなさい。

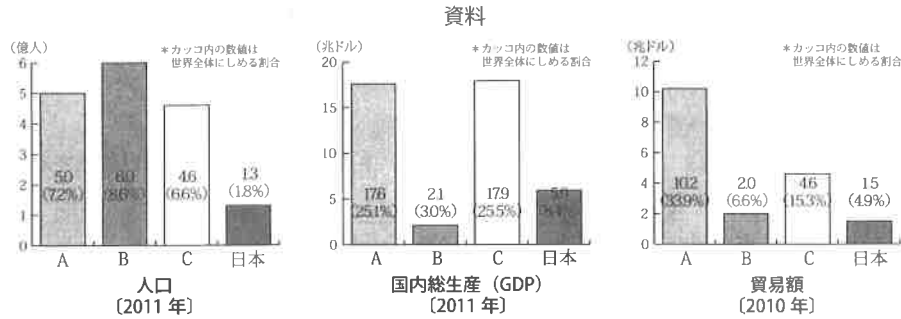
アEUは、ヨーロッパの国々がひとつの国のように結びつくために誕生した連合組織です。2013年に（ ）が加盟し、加盟国は28か国になりました。また、トルコ、マケドニア、セルビアなどの国が加盟候補国として認定されています。EU加盟の条件は、ヨーロッパの国であること、自由、民主主義、人権の尊重、といった理念を尊重することが挙げられています。

EUは、第二次世界大戦後、長年の紛争の原因であった石炭資源などを共通で管理しようと、フランスや西ドイツ（当時）など6か国でつくった共同体がはじまりです。近年では、経済分野に加えて、外交、環境、安全保障などの分野においても、共通の政策を強化する努力が続けています。

2009年、ギリシャ財政問題をきっかけに、外国為替市場ではEUROが下落、ヨーロッパ全体に金融不安や経済危機が広がりました。EUは危機に陥った国の財政を支援する代わりに厳しい政策を課し、EU経済は落ち着きを取り戻しました。今後、EUは強い結束を保ちながら、経済成長と財政再建を両立させることが期待されています。

問1 文章中の（ ）にあてはまる国名を書きなさい。

問2 下線アに関連して、次の資料中のA～Cは、EU、NAFTA、ASEANを示しています。組み合わせとして正しいものはどれですか。



- | | | |
|-----------|---------|---------|
| 1 A-EU | B-NAFTA | C-ASEAN |
| 2 A-EU | B-ASEAN | C-NAFTA |
| 3 A-NAFTA | B-EU | C-ASEAN |
| 4 A-NAFTA | B-ASEAN | C-EU |
| 5 A-ASEAN | B-EU | C-NAFTA |
| 6 A-ASEAN | B-NAFTA | C-EU |

問3 下線アについて述べた文章として、正しいものはどれですか。

- EUの全ての加盟国が各国の通貨を廃止して共通通貨EUROを導入することによって、ヨーロッパが一つの国内市場のようになっています。
- 2000年代、EUは西ヨーロッパ諸国を中心に加盟国を急速に拡大しているので、政策の決定がより難しくなりました。
- EUのように、経済、環境、安全保障などの分野で、協力体制を強めようとする動きをナショナリズムとといいます。
- EUの最高機関は、加盟各国の首脳が構成する欧州理事会で、加盟国は理事会の決定に従う必要があります。

問4 下線イに関連して、基本的人権の歴史について述べた文章として、正しいものはどれですか。

- イギリスの思想家ロックは、主著『社会契約論』の中で人々の生命や自由、財産の諸権利を唱え、市民革命を理論的に支えました。
- 産業革命以降、資本主義経済が発展したことで、人々の間に貧富の差が拡大し、労働者は長時間労働、低賃金を強いられました。そこで、普通選挙運動や労働運動がおこりました。
- 人間らしく生きるために生活の基礎を保障しようとする社会権が明記された世界最初の憲法は、1919年のドイツのプロイセン憲法です。
- 第二次世界大戦後には国際連合を中心に人権を世界各国に拡大するという考え方が進み、国際人権規約をはじめ、人種差別撤廃条約や女子差別撤廃条約、死刑廃止条約などが発効し、日本も批准しています。

問5 下線ウについて、誤っているものはどれですか。

- 政府の収入である租税には、所得税や法人税などの直接税と、消費税や酒税などの間接税があります。
- 政府は、市場では供給されにくい社会資本をつくらしたり、医療や教育などの公共サービスを提供したりしています。
- 政府は、好景気のときにはインフレーションが進むので、増税や公共投資の拡大により、景気の波を調節しています。
- 政府は、けがや病気、老齢、失業など、生活が困難になった個人に対して生活の保障を行う、社会保険や公的扶助などの社会保障制度を整備しています。

5

次の先生と生徒の会話文を読んで、設問に適語や番号で答えなさい。

先生「2013年7月の参議院選挙、2014年12月の衆議院選挙が行われましたが、そのたびに一票の格差が話題になりました。皆さんは何が問題となっているか、知っていますか。」

生徒A「ニュースで、各地域でア裁判所に対し、選挙を無効として選挙のやり直しの訴えが起こされていることを聞きました。」

先生「衆議院議員の選挙は、小選挙区比例代表並立制がとられています。衆議院定数475議席のうち295議席を小選挙区制で選びますが、小選挙区295区の中で、人口が少ない選挙区と人口が多い選挙区とを比べると、有権者一人あたりの1票の価値、重みに差が出てしまいます。」

生徒B「なるほど。そうすると、最も人口が少ない選挙区を基準にすると、最も人口が多い選挙区との格差は約(a)倍になりますね。」

生徒A「先生、選挙区によってこんなに人口が違うのに、同じ1議席の選挙区にするのはどうしてですか。」

先生「今のきまりでは、イ都道府県、市町村の境界線を尊重した区割りをしているからです。だからどうしても格差は生じてしまうのですね。」

生徒A「それなら、小選挙区ではなく全て比例代表制で選挙するのはどうですか。」

生徒B「そうすると(b)」

生徒A「うーん・・・どの選挙のやり方をしても一長一短あるのか。」

先生「実は2014年の衆議院選挙では、小選挙区での選挙を300議席から5議席減らして行われました。人口の少ない都道府県の議席数が減らされたことによって2012年に行われた選挙よりも格差は縮まりました。それでも、格差が2倍を超えてしまうと、最も人口が少ない選挙区の有権者は、1人2票分の価値を持っていたことになります。」

生徒B「平等選挙の原則に反していると思います。格差の是正はまだまだ不十分ということですね。」

先生「そうですね。国会は様々なことを考慮したうえで選挙のやり方を規定していますが、まだまだ努力を続けなければなりませんね。」

資料 衆議院小選挙区別選挙人登録者数（2014年9月2日）

多い選挙区		有権者数	少ない選挙区		有権者数
1位	東京1区	493,811	1位	鳥取1区	231,660
2位	北海道1区	490,438	2位	福島4区	234,210
3位	東京3区	487,465	3位	宮城5区	238,498

※総務省HP参考

- 問1 上の資料を参考にして、文章中の（ a ）にあてはまる数字を計算しなさい。ただし小数第3位以下を切り捨て、第2位まで答えなさい。
- 問2 文章中の（ b ）にあてはまる言葉として、適切なものはどれですか。
- 1 小さな政党が乱立して、政治が不安定になるよ。
 - 2 落選者の得票数が多くて、小さな政党の意見が反映されにくくなるよ。
 - 3 大政党が立候補者を複数立てるので、派閥政治を助長するかもしれないよ。
 - 4 政権交代が起こりやすくなるよ。
- 問3 下線アに関連して、日本の司法について述べた文章として、正しいものはどれですか。
- 1 第一審の裁判所の判決に納得できない場合、第二審の裁判所に起訴し、さらに不服があれば上告することができます。
 - 2 検察審査会が同一の事件について「起訴相当」と2度出された場合は、必ず起訴されなければなりません。
 - 3 民事裁判の被告人には、公正で迅速な公開裁判を受ける権利や弁護人を依頼する権利、自白を強要されない権利、黙秘権などが認められています。
 - 4 司法制度改革の一環として始まった裁判員制度は、国民が裁判員として裁判官と一緒に重大な刑事裁判の第一審を担当し、6か月の任期で活動します。
- 問4 下線イに関連して、地方公共団体の政治について述べた文章として、正しいものはどれですか。
- 1 地方公務員の受験資格から「日本国籍を有すること」という項目を撤廃する地方公共団体が増えてきています。
 - 2 議会の仕事ぶりに問題がある場合、有権者の50分の1以上の署名を集めて住民投票を行い、その結果過半数の同意があれば、議会を解散させることができます。
 - 3 地方議会は、法律の範囲内で自由に地方公共団体独自の法である政令を定めたり、地方公共団体の予算を決定したりしています。
 - 4 首長は、議会の決定に対する拒否権や、議会の解散権を持っており、これに対して議会は、首長の弾劾決議権を持っています。
- 問5 次の日本国憲法の条文中の（ ）にあてはまる語句を書きなさい。

第14条 すべて国民は、（ ）に平等であって、人種、信条、性別、社会的身分又は門地により、政治的、経済的または社会的関係において、差別されない。

解答用紙 (2016-2) (社会)

1	問 1		問 2	
	問 3	問 4		問 5

2	問 1		問 2	
	問 3	問 4		問 5

小計	
----	--

3	問 1				問 2			
	問 3	問 4	問 5	問 6	問 7	問 8	問 9	問 10

小計	
----	--

4	問 1		問 2	問 3	問 4	問 5

5	問 1		問 2	問 3	問 4

問 5	

小計	
----	--

受験番号

--	--	--	--	--	--	--	--

得点合計	
------	--